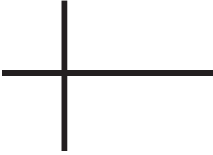




# Les lignes perpendiculaires et parallèles

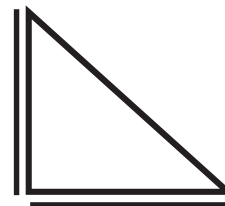
1. Dessine le type de lignes demandé.

Paire de lignes perpendiculaires		Paire de lignes parallèles	
----------------------------------	---	----------------------------	---

2. Sur la figure, surligne une paire de côtés parallèles.




3. Sur la figure, surligne une paire de côtés perpendiculaires.



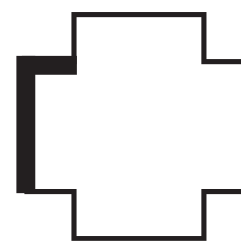
4. Observe les lignes plus épaisses. De quel type sont-elles ?



a. perpendiculaires



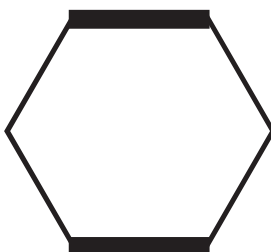
c. parallèles




e. perpendiculaires



b. parallèles



d. parallèles



f. perpendiculaires

