
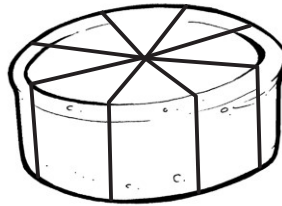



1 Michel et son frère jouent avec des petites autos. Ils en perdent les $\frac{3}{8}$. Colorie les automobiles perdues.




2 Ariane cuisine un gâteau pour sa famille. Elle prévoit qu'il n'en restera que le $\frac{1}{4}$ lorsque son père et son frère en auront mangé. Colorie la part du gâteau qu'il restera.



3 Maxime reçoit sa note d'un examen de mathématique qui contenait 27 questions. Il a réussi les $\frac{7}{9}$ des questions. Colorie le nombre de points qui correspondent au nombre de questions réussies par Maxime.



4 Jérémie possède 40 billes. Il en donne les $\frac{5}{8}$ à son amie Amélie. Colorie le nombre de billes qu'il lui donne.



5 Sophie a 12 pages d'exercices à réaliser pour son cours de français du lendemain. Les $\frac{2}{3}$ de ces pages sont déjà complétées. Colorie le nombre de pages qu'elle a réalisées.

