



Nom _____

Les mesures métriques

Le système de mesure que tu connais se nomme le système métrique.
Dans celui-ci, les millimètres et les centimètres servent à mesurer des longueurs.
Il y a 10 millimètres dans un centimètre.

Exemple

Le trombone mesure 5 centimètres, ou 50 millimètres, de longueur.

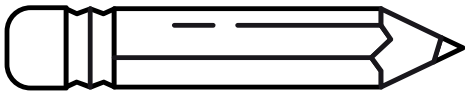


Choisis la mesure appropriée pour compléter chacune des phrases suivantes.
Encerle la bonne réponse.

1. La longueur de ce crayon à mine est de :

a) 16 millimètres.

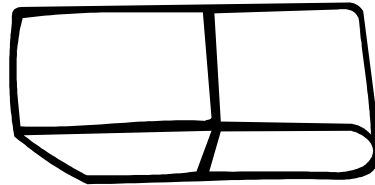
b) 6 centimètres.



2. La longueur de cette efface est de :

a) 45 millimètres.


b) 60 centimètres.



3. La longueur de cette plume est de :

a) 7 centimètres.

b) 14 millimètres.



4. La longueur de cette baguette magique est de :

a) 25 millimètres.

b) 8 centimètres.



5. La hauteur de ce livre est de :

a) 36 millimètres.

b) 9 centimètres



6. La longueur de ce serpent est de :

a) 10 centimètres.

b) 80 millimètres.

