



Nom _____

Les mesures métriques

Le système de mesure que tu connais se nomme le système métrique.
Dans celui-ci, les millimètres et les centimètres servent à mesurer des longueurs.
Il y a 10 millimètres dans un centimètre.

Exemple

Le trombone mesure 5 centimètres, ou 50 millimètres, de longueur.



Choisis la mesure appropriée pour compléter chacune des phrases suivantes.
Encerle la bonne réponse.

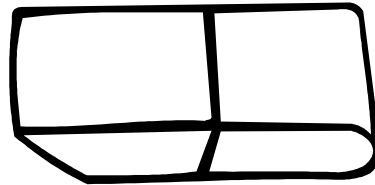
1. La longueur de ce crayon à mine est de :

- a) 16 millimètres.
- b) 6 centimètres.




2. La longueur de cette efface est de :

- a) 45 millimètres.
- b) 60 centimètres.



3. La longueur de cette plume est de :

- a) 7 centimètres.
- b) 14 millimètres.




4. La longueur de cette baguette magique est de :

- a) 25 millimètres.
- b) 8 centimètres.



5. La hauteur de ce livre est de :

- a) 36 millimètres.
- b) 9 centimètres.



6. La longueur de ce serpent est de :

- a) 10 centimètres.
- b) 80 millimètres.

